

M

matemàtiques
bàsiques

1 2 3 4 5

Càlcul de sumes portant-ne. Problemes de sumes portant-ne i diferències sense portar-ne

matemàtiques bàsiques 3

projecte educatiu el far



Aquest llibre està imprès en paper reciclable, ecològic, lliure de clor i contribueix al desenvolupament sostenible dels boscos.

Il·lustracions:

Antonio Perera

Coordina la col·lecció:

Equip Queralt

Impressió: Orymu

ISBN quadern: 978-84-15960-29-4

Dipòsit legal: B-9914-2014

© Projecte Educatiu El Far

© **Queralt Edicions**

Amb el suport de:



Generalitat de Catalunya
**Institut Català
de les Empreses Culturals**

QUERALT
EDICIONS, S.L.

www.queraltedicions.cat

e-mail: queralt@queraltedicions.cat

1 Encercla.

- El cotxe que hi ha sobre el pont.
- El vaixell que hi ha sota el pont.
- El pescador que hi ha sota el pont, a la dreta.



2 Escriu amb lletres o xifres.

36 _____

vuitanta-u

quaranta-tres

87 _____

68 _____

noranta-dos

3 Calcula.

A cartoon illustration of a man with a large nose and a mustache, wearing a red shirt and holding a calculator. He is looking at a piece of paper with math problems.

$$\begin{array}{r} 8 \\ + 4 \\ \hline \square \end{array}$$

$$\begin{array}{r} 7 \\ + 6 \\ \hline \square \end{array}$$

$$\begin{array}{r} 9 \\ + 3 \\ \hline \square \end{array}$$

$$\begin{array}{r} 5 \\ + 5 \\ \hline \square \end{array}$$

$$\begin{array}{r} 6 \\ + 9 \\ \hline \square \end{array}$$


$$\begin{array}{r} 8 \\ + 7 \\ \hline \square \end{array}$$

$$\begin{array}{r} 9 \\ + 8 \\ \hline \square \end{array}$$



4 Compta.

• De dos en dos.



• De tres en tres.



5 Calcula.



29	16	27	38	26	37	39
+ 11	+ 25	+ 15	+ 20	+ 17	+ 14	+ 12
<input type="text"/>	<input type="text"/>	<input type="text"/>	<input type="text"/>	<input type="text"/>	<input type="text"/>	<input type="text"/>

6 Calcula mentalment.


<input type="text"/>	+ 6 =	
+	+	
14	+ <input type="text"/>	23
=	=	
21		

<input type="text"/>	+ 19 =	
+	+	
<input type="text"/>	+ <input type="text"/>	12
=	=	
32	24	



7 Pinta a cada figura.

- De vermell el nombre més gran.
- De verd el nombre més petit.



8 En Miquel té estalviats 46 euros i la Marta en té 18 més que en Miquel. Quants euros té la Marta?

Dades

Càlcul

La Marta té euros.

9 Calcula.

A cartoon character with a calculator and a mobile phone is looking at a list of addition problems. The problems are arranged in two rows of seven columns each. Each problem has a box for the answer.


23	12	27	30	29	34	13
$+ 35$	$+ 49$	$+ 36$	$+ 46$	$+ 24$	$+ 9$	$+ 22$
<input type="text"/>	<input type="text"/>	<input type="text"/>	<input type="text"/>	<input type="text"/>	<input type="text"/>	<input type="text"/>
15	6	18	7	48	28	33
$+ 8$	$+ 50$	$+ 47$	$+ 38$	$+ 14$	$+ 33$	$+ 18$
<input type="text"/>	<input type="text"/>	<input type="text"/>	<input type="text"/>	<input type="text"/>	<input type="text"/>	<input type="text"/>



10 Calcula.

$16 + \square = 21$	$\square + 17 = 23$	$16 + 17 = \square$
$\square + 15 = 24$	$18 + 15 = \square$	$12 + \square = 30$
$19 + 13 = \square$	$5 + \square = 17$	$\square + 15 = 32$
$11 + \square = 30$	$\square + 23 = 31$	$26 + 17 = \square$

11 Calcula.



$\begin{array}{r} 44 \\ + 37 \\ \hline \square \end{array}$	$\begin{array}{r} 13 \\ + 56 \\ \hline \square \end{array}$	$\begin{array}{r} 58 \\ + 32 \\ \hline \square \end{array}$
$\begin{array}{r} 48 \\ + 22 \\ \hline \square \end{array}$	$\begin{array}{r} 26 \\ + 44 \\ \hline \square \end{array}$	$\begin{array}{r} 59 \\ + 21 \\ \hline \square \end{array}$
$\begin{array}{r} 57 \\ + 17 \\ \hline \square \end{array}$	$\begin{array}{r} 38 \\ + 54 \\ \hline \square \end{array}$	$\begin{array}{r} 19 \\ + 45 \\ \hline \square \end{array}$
$\begin{array}{r} 53 \\ + 29 \\ \hline \square \end{array}$	$\begin{array}{r} 43 \\ + 39 \\ \hline \square \end{array}$	$\begin{array}{r} 55 \\ + 18 \\ \hline \square \end{array}$


12 Completa la taula.

	D	U
	6	0
	7	9
quaranta-vuit		
vuitanta-cinc		
setanta-sis		
	9	7



13 Encercla.

- De vermell el nen i la nena més alts.
- De verd el nen i la nena més baixets.



14 Si he omplert la banyera amb 49 litres d'aigua freda i 43 d'aigua calenta, quants litres d'aigua caben a la banyera?

Dades

Càlcul

Hi caben litres d'aigua.

15 Calcula.

51	9	25
+ 31	+ 42	+ 50
<input type="text"/>	<input type="text"/>	<input type="text"/>
27	35	41
+ 46	+ 53	+ 39
<input type="text"/>	<input type="text"/>	<input type="text"/>

16 Encercla la resposta correcta.

$15 + 25$ → 30
→ 40

$23 + 7$ → 20
→ 30



17 Compta.

• De quatre en quatre.
+4



• De cinc en cinc.
+5



18 Ordena de més gran a més petit.

21 71 12

36 60 6 63

> >

> > >

19 Calcula.

58	6	37	13	26	25	28
+ 40	+ 17	+ 54	+ 48	+ 56	+ 47	+ 52
<input type="text"/>	<input type="text"/>	<input type="text"/>	<input type="text"/>	<input type="text"/>	<input type="text"/>	<input type="text"/>
59	24	66	33	7	36	45
+ 12	+ 57	+ 20	+ 49	+ 62	+ 55	+ 44
<input type="text"/>	<input type="text"/>	<input type="text"/>	<input type="text"/>	<input type="text"/>	<input type="text"/>	<input type="text"/>
16	39	65	57	64	41	47
+ 46	+ 51	+ 11	+ 10	+ 10	+ 29	+ 23
<input type="text"/>	<input type="text"/>	<input type="text"/>	<input type="text"/>	<input type="text"/>	<input type="text"/>	<input type="text"/>

