

M

matemàtiques
bàsiques

1 2 3 4 5

Càlcul de sumes portant-ne. Problemes de sumes portant-ne i diferències sense portar-ne

1 Encercla.

- El cotxe que hi ha sobre el pont.
- El vaixell que hi ha sota el pont.
- El pescador que hi ha sota el pont, a la dreta.



2 Escriu amb lletres o xifres.

36 _____

vuitanta-u

quaranta-tres

87 _____

68 _____

noranta-dos

3 Calcula.

A cartoon illustration of a man with a large nose and a red shirt, holding a red calculator. He is looking at a list of seven simple addition problems. The problems are arranged in a row, each with a horizontal line under the second number and a square box for the answer.

8 7 9 5 6 8 9
+ 4 + 6 + 3 + 5 + 9 + 7 + 8



4 Compta.

• De dos en dos.

+2

37 39

+2

75

• De tres en tres.

+3

48

+3

59

5 Calcula.

29	16	27	38	26	37	39
+ 11	+ 25	+ 15	+ 20	+ 17	+ 14	+ 12
<input type="text"/>	<input type="text"/>	<input type="text"/>	<input type="text"/>	<input type="text"/>	<input type="text"/>	<input type="text"/>

6 Calcula mentalment.

+ 6 =

+ +

14 + =

= =

+ 19 =

+ +


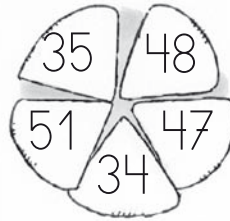


+ =

= =



7 Pinta a cada figura.

- De vermell el nombre més gran.
- De verd el nombre més petit.



8 En Miquel té estalviats 46 euros i la Marta en té 18 més que en Miquel. Quants euros té la Marta?

Dades

Càlcul

La Marta té euros.

9 Calcula.


23	12	27	30	29	34	13
+ 35	+ 49	+ 36	+ 46	+ 24	+ 9	+ 22
<input type="text"/>	<input type="text"/>	<input type="text"/>	<input type="text"/>	<input type="text"/>	<input type="text"/>	<input type="text"/>
15	6	18	7	48	28	33
+ 8	+ 50	+ 47	+ 38	+ 14	+ 33	+ 18
<input type="text"/>	<input type="text"/>	<input type="text"/>	<input type="text"/>	<input type="text"/>	<input type="text"/>	<input type="text"/>



10 Calcula.

$16 + \square = 21$	$\square + 17 = 23$	$16 + 17 = \square$
$\square + 15 = 24$	$18 + 15 = \square$	$12 + \square = 30$
$19 + 13 = \square$	$5 + \square = 17$	$\square + 15 = 32$
$11 + \square = 30$	$\square + 23 = 31$	$26 + 17 = \square$

11 Calcula.



44	13	58
$+ 37$	$+ 56$	$+ 32$
\square	\square	\square
48	26	59
$+ 22$	$+ 44$	$+ 21$
\square	\square	\square
57	38	19
$+ 17$	$+ 54$	$+ 45$
\square	\square	\square
53	43	55
$+ 29$	$+ 39$	$+ 18$
\square	\square	\square

12 Completa la taula.

	D	U
<input type="text"/>	6	0
<input type="text"/>	7	9
quaranta-vuit	<input type="text"/>	<input type="text"/>
vuitanta-cinc	<input type="text"/>	<input type="text"/>
setanta-sis	<input type="text"/>	<input type="text"/>
<input type="text"/>	9	7



13 Encercla.

- De vermell el nen i la nena més alts.
- De verd el nen i la nena més baixets.



14 Si he omplert la banyera amb 49 litres d'aigua freda i 43 d'aigua calenta, quants litres d'aigua caben a la banyera?

Dades

Càlcul

Hi caben litres d'aigua.

15 Calcula.

51	9	25
$+ 31$	$+ 42$	$+ 50$
<input type="text"/>	<input type="text"/>	<input type="text"/>
27	35	41
$+ 46$	$+ 53$	$+ 39$
<input type="text"/>	<input type="text"/>	<input type="text"/>

16 Encercla la resposta correcta.

$15 + 25$ → 30
→ 40
→ 20

$23 + 7$ → 30
→ 20
→ 30



17 Compta

• De quatre en quatre.
+4



• De cinc en cinc.
+5



18 Ordena de més gran a més petit.

21 71 12

36 60 6 63

> >

> > >

19 Calcula.

58	6	37	13	26	25	28
+ 40	+ 17	+ 54	+ 48	+ 56	+ 47	+ 52
<input type="text"/>	<input type="text"/>	<input type="text"/>	<input type="text"/>	<input type="text"/>	<input type="text"/>	<input type="text"/>
59	24	66	33	7	36	45
+ 12	+ 57	+ 20	+ 49	+ 62	+ 55	+ 44
<input type="text"/>	<input type="text"/>	<input type="text"/>	<input type="text"/>	<input type="text"/>	<input type="text"/>	<input type="text"/>
16	39	65	57	64	41	47
+ 46	+ 51	+ 11	+ 10	+ 10	+ 29	+ 23
<input type="text"/>	<input type="text"/>	<input type="text"/>	<input type="text"/>	<input type="text"/>	<input type="text"/>	<input type="text"/>



20 De les taronges que va comprar en Pere, en va guardar 84 a la nevera i va llençar les 16 que estaven podrides. Quantes taronges va **comprar** en total en Pere?

Dades

Càlcul

En Pere va comprar taronges.

21 Observa i completa.



→ +5



→ +10

7







9







22 Calcula.



28	36	42
+ 63	+ 25	+ 34
<hr/>	<hr/>	<hr/>
<input type="text"/>	<input type="text"/>	<input type="text"/>

58	52	68
+ 23	+ 32	+ 13
<hr/>	<hr/>	<hr/>
<input type="text"/>	<input type="text"/>	<input type="text"/>

69	43	68
+ 11	+ 37	+ 22
<hr/>	<hr/>	<hr/>
<input type="text"/>	<input type="text"/>	<input type="text"/>

23 Escriu amb lletres o xifres.

cinquanta-dos

74 _____

vuitanta-cinc

90 _____

noranta-tres

13 _____

vint-i-u

